

Fach (siehe Hefter)	Aufgaben	Erledigt <input checked="" type="checkbox"/>
Deutsch - Lesen	AB Einen Text in Bilder umsetzen AB Wenn es Winter wird	<input type="checkbox"/> <input type="checkbox"/>
Deutsch - Rechtschreiben - Grammatik	SfAH S. 30 bis 39 - Teile die Bearbeitung ein. Jeden Tag eine oder zwei Seite(n) sind ausreichend. Rechtschreib-Arbeitsheft (jeden Tag 2 Seiten)	<input type="checkbox"/>
Mathematik	MfB S. 24 (Anwenden Rechnen bis 1000) MfB S. 25 (Mit Geld rechnen) AB KV7 (Geldwerte bis 1 000 Euro / ...) AB Uhrzeit (Wiederholung Uhrzeit erkennen)	<input type="checkbox"/> <input type="checkbox"/> <input type="checkbox"/> <input type="checkbox"/>
Sachunterricht	AB Leipzig, die Messestadt 1. Lies den Text 2. Suche die eine Sehenswürdigkeit von Leipzig aus und gestalte darüber ein Blatt (A3 oder A4)! Inhalt: Bild von der Sehenswürdigkeit, Angaben zum Standort, Erbauer (auch wann), Verwendung (früher - heute), Besonderheit, weitere Sehenswürdigkeiten in Leipzig AB Wie entstehen Nebel, Tau und Raureif? (S. 34,35) 1. Lies die Seite 34 aufmerksam! 2. Beantworte dazu die Fragen der S. 35!	<input type="checkbox"/> <input type="checkbox"/> <input type="checkbox"/> <input type="checkbox"/>

Liebe Kinder,

hier ist der alte und **neue** Wochenplan für die aktuelle Woche. Frau Colberg und ich denken, dass aus der Woche vor den Ferien sicher noch etwas liegen geblieben ist, hoffentlich nicht so viel, wie der Schnee vor der Haustür. 😊 Dennoch haben wir euch Aufgaben ergänzt, die **gelb** markiert sind.

Die anton.app steht euch auch in dieser Woche wieder zur Verfügung. Wer sein Zugang noch einmal benötigt, schreibt uns eine E-Mail.


Frau Colberg und ich wünschen euch eine supertolle verschneite Woche!

Bleibt gesund!

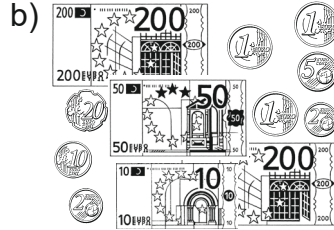
Frau Colberg und Herr Müller

Name: _____ Klasse: _____ Datum: _____

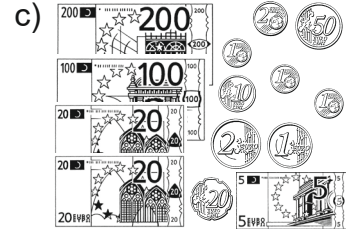
1 Wie viel Geld ist es? Schreibe auf.



_____ € _____ ct
_____ €




_____ € _____ ct
_____ €



_____ € _____ ct
_____ €

2 Schreibe mit Komma.

- a) 5 € 13 ct = _____ €
- 85 € 13 ct = _____ €
- 685 € 13 ct = _____ €
- 680 € 13 ct = _____ €
- 605 € 3 ct = _____ €



- b) 6 € 49 ct = _____ €
- 76 € 49 ct = _____ €
- 976 € 49 ct = _____ €
- 906 € 40 ct = _____ €
- 970 € 9 ct = _____ €

3 Ordne die Geldbeträge.

a) Beginne mit dem größten Geldbetrag.

647 €	739 €	519 €	379 €	620 €	951 €	764 €	602 €

b) Beginne mit dem kleinsten Geldbetrag.

340,99 €	9,70 €	431,09 €	9,69 €	97,70 €	341,09 €	79,71 €	404,09 €

4 Was gehört zusammen? Verbinde.

888 € 88 ct		808,08 €	880 € 80 ct
880 € 08 ct		880,88 €	80 € 88 ct
808 € 08 ct		88,08 €	880 € 88 ct
80 € 80 ct		880,80 €	880 € 88 ct
		888,88 €	88 € 08 ct
	80,80 €		